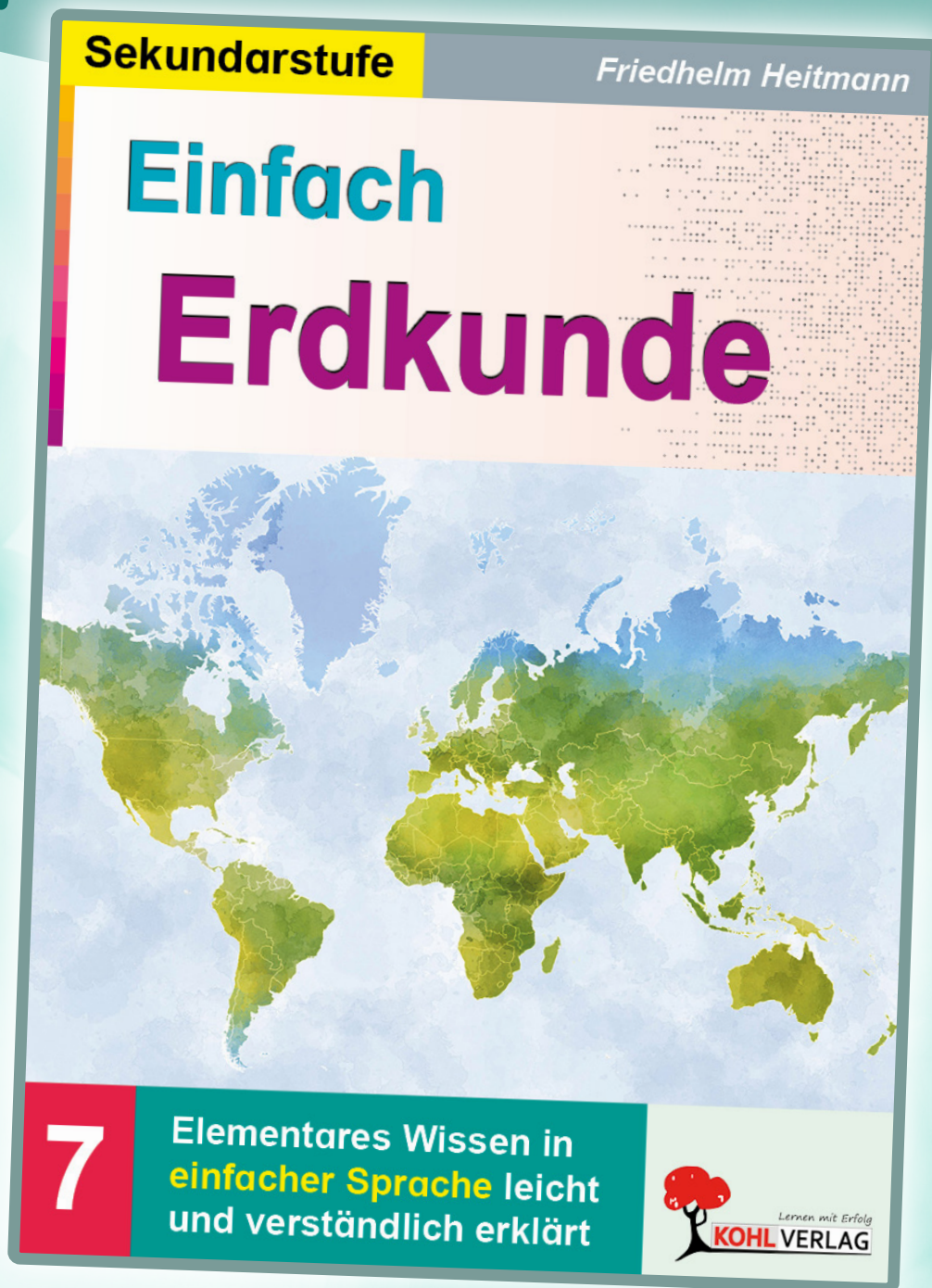


Europas Natur und Staaten

aus/zu:



**Kohls
Kostprobe**
.. als PDF-Download

Lernen mit Erfolg
KOHL VERLAG

Die Natur Europas

Europa ist der niedrigste aller Erdteile. Die durchschnittliche Höhe Europas beträgt etwa 340 Meter. Außer flachem Land (= Tiefland, Tiefebene) gibt es in Europa Mittelgebirge und Hochgebirge. Das Tiefland reicht bis etwa 200 Meter Höhe. Die Mittelgebirge sind bis zu etwa 2000 Meter hoch. Als Hochgebirge bezeichnet man Gebirge mit über 2000 Meter Höhe. Hochgebirge in Europa sind das Skandinavische Gebirge, die Pyrenäen, die Sierra Nevada, die Alpen, die Apenninen und die Karpaten. Am Rande Europas liegt das Hochgebirge Kaukasus.

Europa erstreckt sich über verschiedene Klimazonen. Ganz im Norden kommt die polare Klimazone vor. Südlich davon folgt die subpolare Klimazone. Im mittleren Bereich Europas ist die gemäßigte Klimazone verbreitet, im Mittelmeerraum die subtropische Klimazone.

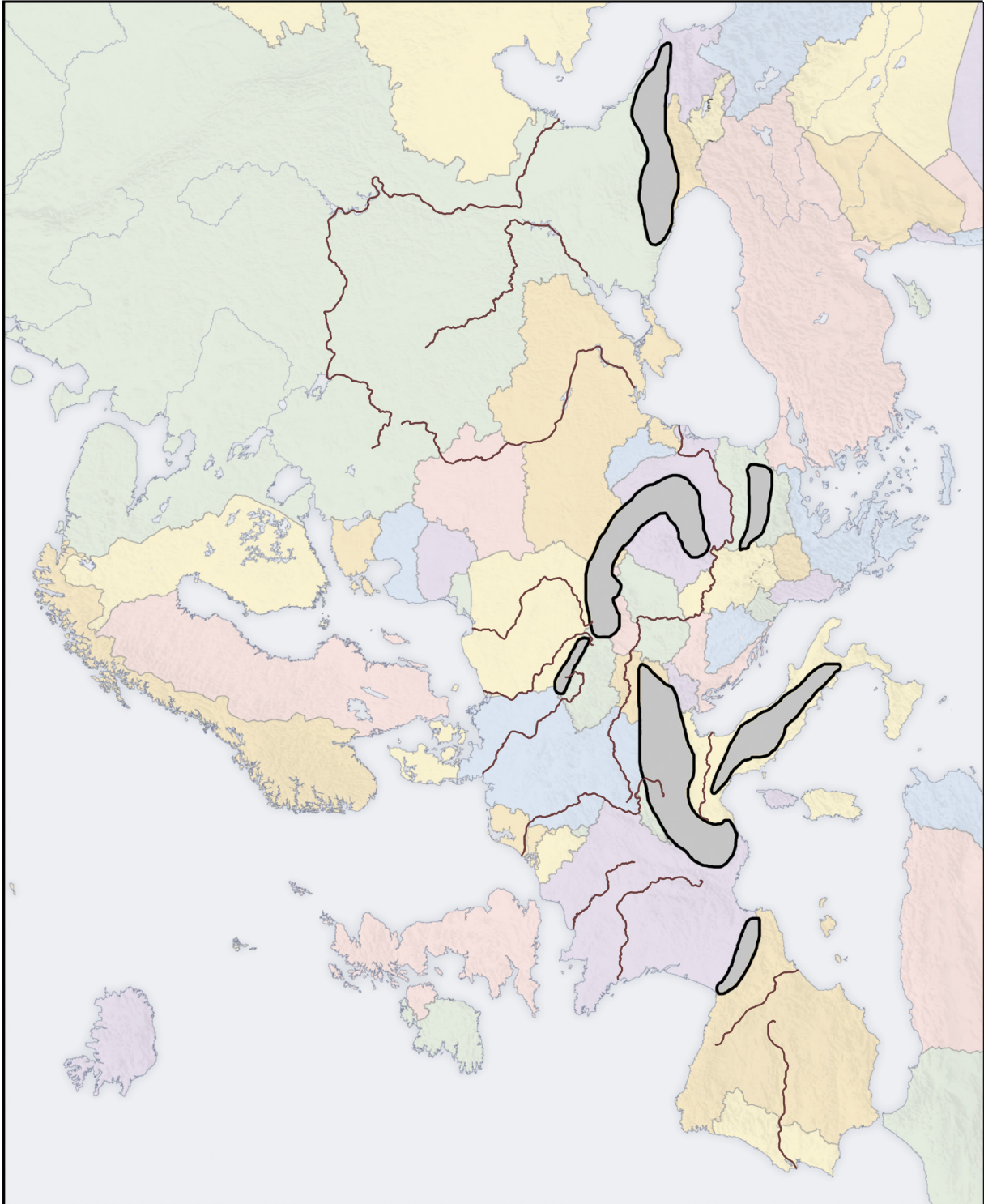


Aufgabe: Schreibe die Sätze sinnvoll zu Ende. Nutze den Text.

- a) Der niedrigste Erdteil _____.
- b) Von der Natur her lässt sich Europa aufteilen in _____.
- c) Tiefebene _____.
- d) Mittelgebirge _____.
- e) Hochgebirge _____.
- f) In Europa gibt es die _____, die _____, die _____ und die _____ Klimazone.
- g) Der nördliche Teil Norwegens _____.
- h) Mittelschweden _____.
- i) Deutschland _____.
- j) Griechenland _____.

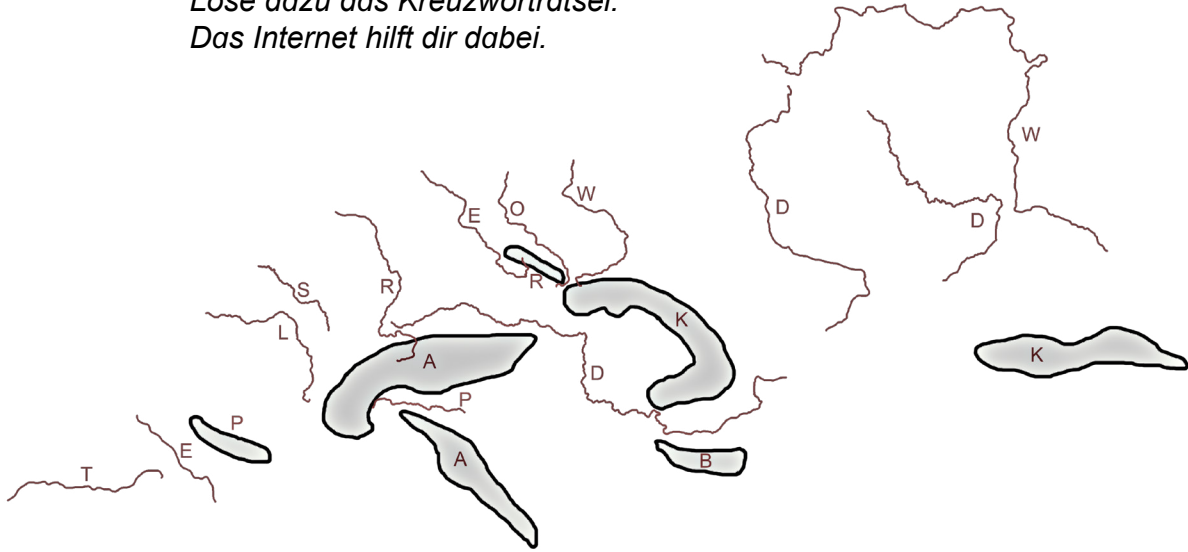
Gebirge und Flüsse

Aufgabe 1: Trage die vollständigen Namen der Gebirge und Flüsse an den richtigen Stellen in der Karte ein. Nutze hierfür auch das Internet.

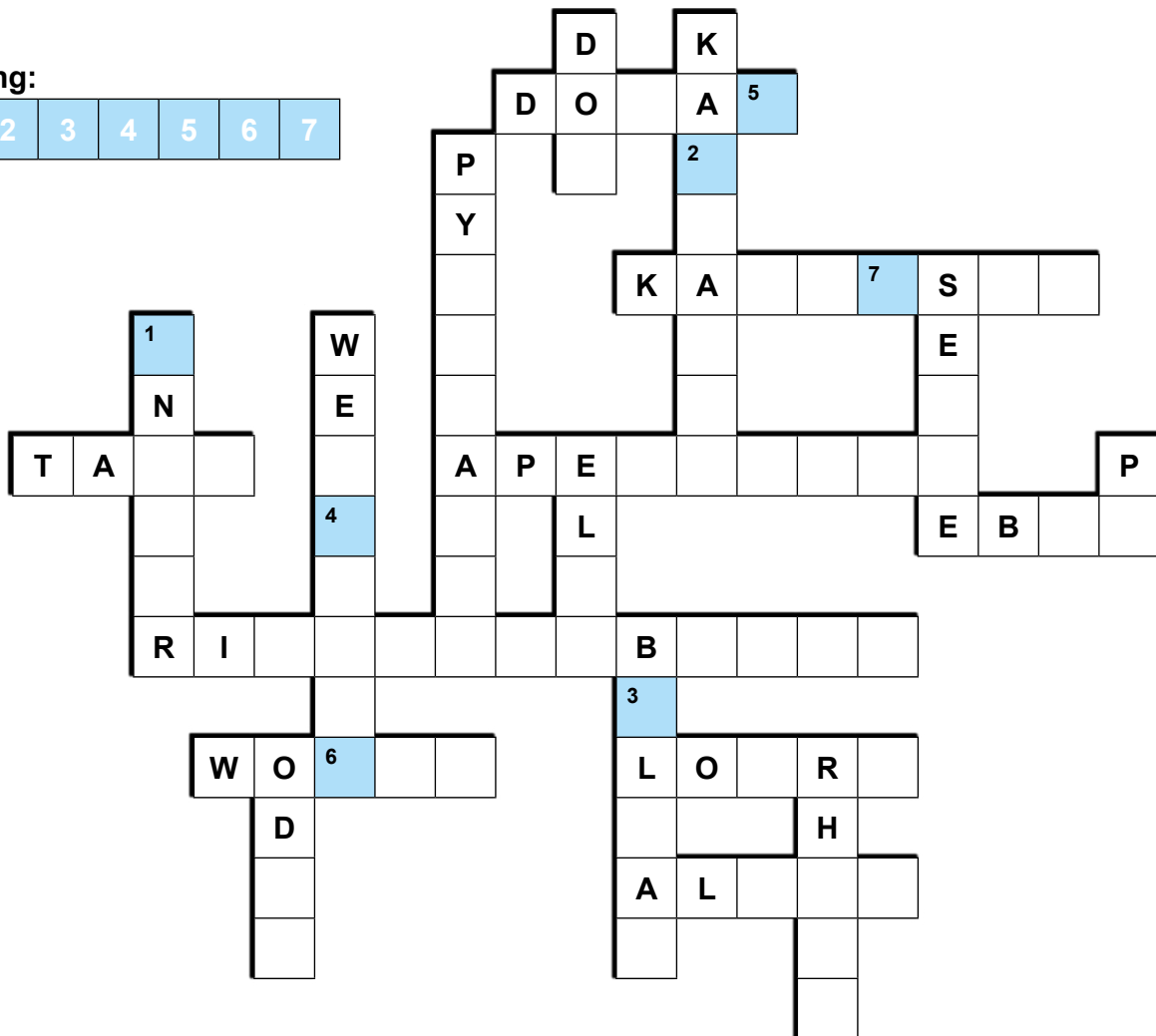


Gebirge und Flüsse

Aufgabe 2: Nenne zu den Anfangsbuchstaben die Mittelgebirge und Flüsse.
 Löse dazu das Kreuzworträtsel.
 Das Internet hilft dir dabei.

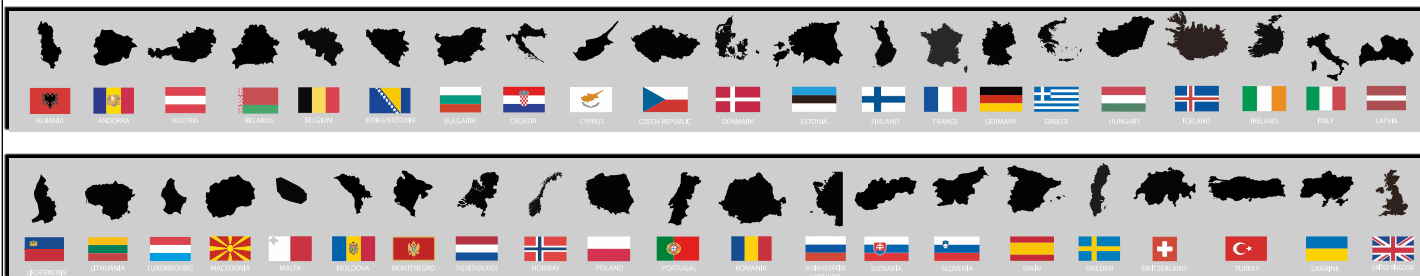


Lösung:



Tip: Der gesuchte „Adlige“ soll in den Karpaten gelebt haben.

Lage der Staaten Europas (Blatt 1 von 2)



Aufgabe 1a: In jeder Zeile stehen drei Staaten. Zwei davon sind Nachbarländer, einer liegt davon entfernt. Finde diesen und kreuze das passende Feld in der rechten Tabelle an.

Tip: Die Karte mit den Hauptstädten auf der nächsten Seite kann dir dabei helfen.

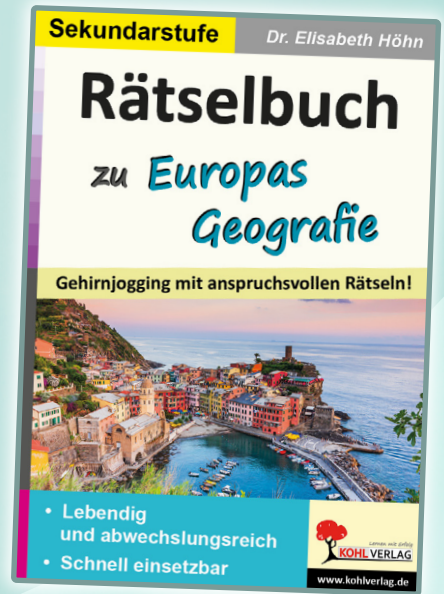
	Staat 1	Staat 2	Staat 3
a)	Österreich	Serbien	Slowenien
b)	Ungarn	Tschechien	Polen
c)	Frankreich	Schweiz	Niederlande
d)	Österreich	Liechtenstein	Kroatien
e)	Rumänien	Bulgarien	Albanien
f)	Nordmazedonien	Montenegro	Bosnien
g)	Griechenland	Serbien	Rumänien
h)	Norwegen	Dänemark	Schweden
i)	Norwegen	Estland	Finnland
j)	Irland	Großbritannien	Island
k)	Frankreich	Andorra	Portugal
l)	Liechtenstein	Italien	Slowenien
m)	Spanien	Niederlande	Frankreich
n)	Litauen	Weißrussland	Estland
o)	Niederlande	Luxemburg	Frankreich
p)	Deutschland	Liechtenstein	Belgien
q)	San Marino	Frankreich	Monaco
r)	Moldawien	Tschechien	Ukraine
s)	Estland	Norwegen	Lettland
t)	Slowakei	Ungarn	Moldawien

	1	2	3
a)	P	H	J
b)	A	E	W
c)	B	T	U
d)	U	Z	P
e)	S	M	T
f)	S	O	D
g)	T	Y	L
h)	R	A	I
i)	P	D	A
j)	E	D	T
k)	Q	I	B
l)	R	K	C
m)	T	A	E
n)	M	S	T
o)	I	X	O
p)	C	S	P
q)	L	E	R
r)	J	A	K
s)	P	V	D
t)	S	E	A

Lösung: Sie ist die einzige Hauptstadt auf der Welt, die an einem Dreiländereck liegt.

a)	b)	c)	d)	e)	f)	g)	h)	i)	j)	k)	l)	m)	n)	o)	p)	q)	r)	s)	t)

Ergänzende Arbeitshefte



Passende Arbeitsblätter für Ihren Unterricht

Der Kohl-Verlag bietet praxiserprobtes Unterrichtsmaterial für alle Schulformen – direkt einsetzbar und differenziert aufbereitet. Ob als Print oder digital: Die Materialien fördern individuelles Lernen und sparen wertvolle Vorbereitungszeit. Profitieren Sie von attraktiven Rabatten, kostenlosen Proben und einem zuverlässigen Service – ideal für Lehrer:innen, Referendar:innen und Pädagog:innen.

- ➔ sofort einsatzbereit
- ➔ mit Lösungen
- ➔ differenziert
- ➔ als Print und PDF verfügbar
- ➔ vieles auch interaktiv als PDF+ erhältlich



weitere Produkte in unserem Shop



Aufgabe 1b: Trage möglichst viele Ländernamen in die Karte ein.



Was lässt sich über Europa sagen?

Aufgabe 1: Verbinde jeweils mit einer Linie: Welcher Satzanfang gehört zu welchem Satzende?

Satzanfänge	
1	Europa besteht nun fast ...
2	Die natürliche Grenze in Europa ist im Osten das Uralgebirge, ...
3	Der größte Staat in Europa und auf der ...
4	Der kleinste Staat Europas und ebenfalls auf der ...
5	Diese Stadt (= Staat) liegt in der italienischen ...
6	Viele Gebiete in Europa sind ...
7	Der höchste europäische Berg ist der ...
8	Vielen Menschen geht es ...
9	Sie führen ein besseres, freieres Leben als z.B. ...
10	Nach Europa kommen immer mehr

Satzenden	
a)	... Erde ist Russland.
b)	... Hauptstadt Rom.
c)	... in Europa gut.
d)	... vor allem in Afrika und Asien.
e)	... aus fast 50 Staaten (= Ländern).
f)	... Menschen von anderen Erdteilen.
g)	... im Süden das Mittelmeer, im Westen der Atlantische Ozean, im Norden das Nordpolarmeer.
h)	... Welt ist die Vatikanstadt.
i)	... Montblanc (ca. 4.810 m hoch) in den Alpen.
j)	... flaches Land (= Tiefland).



Aufgabe 2: Schreibe jetzt die 10 Sätze in der richtigen Reihenfolge vollständig auf!

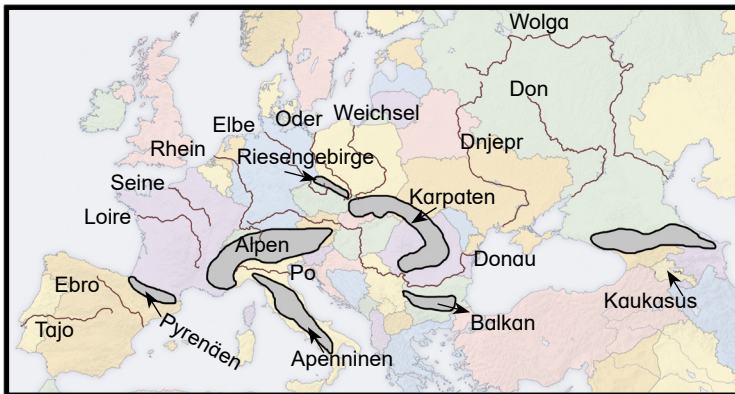
Lösungen

Die Natur Europas

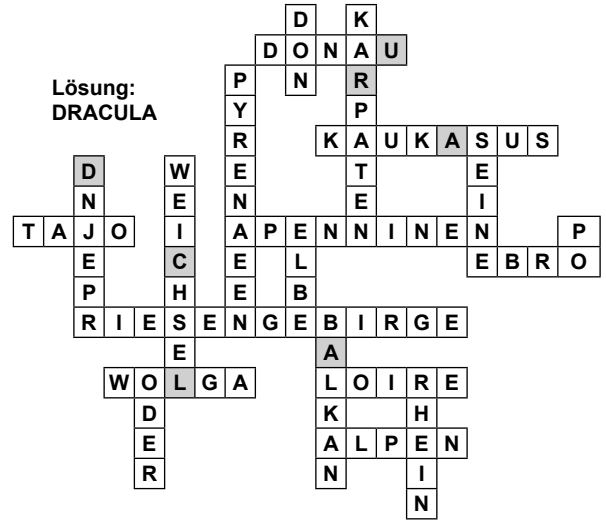
- Aufgabe:**
- a) Der niedrigste Erdteil ist **Europa**.
 - b) Von der Natur her lässt sich Europa aufteilen in **flaches Land, Mittelgebirge und Hochgebirge**.
 - c) Tiefebene **sind flaches Land**.
 - d) Mittelgebirge **reichen bis etwa 2000 Meter Höhe**.
 - e) Hochgebirge **sind mehr als 2000 Meter hoch**.
 - f) In Europa gibt es die **polare**, die **subpolare**, die **gemäßigte** und die **subtropische** Klimazone.
 - g) Der nördliche Teil Norwegens **liegt in der polaren Klimazone**.
 - h) Mittelschweden **befindet sich in der subpolaren Klimazone**.
 - i) Deutschland **ist in der gemäßigten Klimazone gelegen**.
 - j) Griechenland **ist in der subtropischen Klimazone zu finden**.

Gebirge und Flüsse

Aufgabe 1:



Aufgabe 2:



Lage der Staaten Europas

Aufgabe 1:

a)	b)	c)	d)	e)	f)	g)	h)	i)	j)	k)	l)	m)	n)	o)	p)	q)	r)	s)	t)
H	A	U	P	T	S	T	A	D	T	B	R	A	T	I	S	L	A	V	A

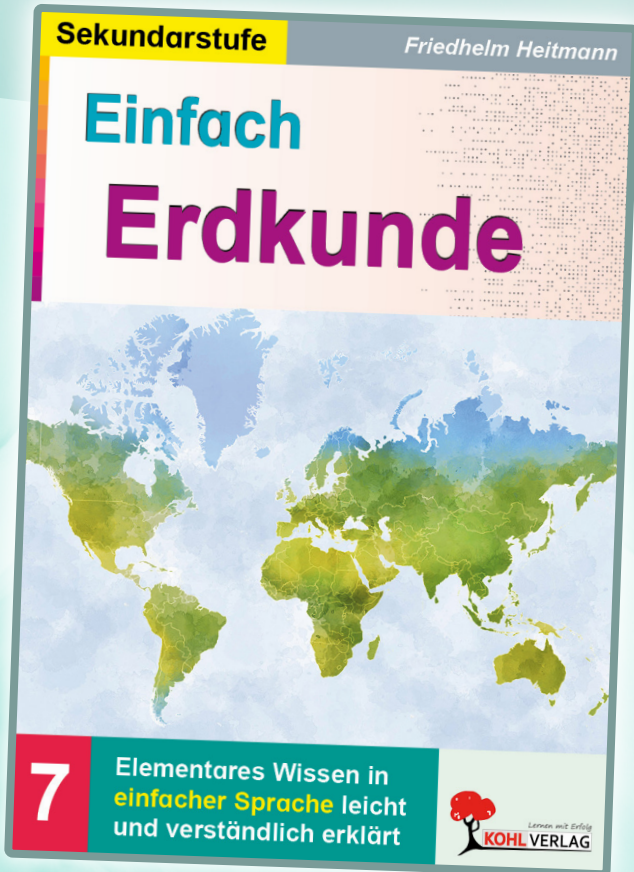
Aufgabe 2:

siehe Europakarte unten

Was lässt sich über Europa sagen?

- Aufgabe 1 & 2:** 1. - e); 2. - g); 3. - a); 4. - h);
5. - b); 6. - j); 7. - i); 8. - c); 9. - d); 10. - f);

Dieses Produkt ist ein Auszug aus dem Arbeitsheft: **Einfach Erdkunde**



ab 18,49 €

Das Arbeitsheft ist vorgesehen zum Einsatz in der Sekundarstufe in den Klassen 5 bis 10. Die Arbeitsblätter enthalten Infotexte sowie speziell dazu ausgearbeitete Aufgabenstellungen, die in verschiedenen Sozialformen (Einzel-, Partner- und Gruppenarbeit) erarbeitet werden. Die Kopiervorlagen sind optimal geeignet für die Freiarbeit und zur Nachhilfe und mit Lösungen – auch zur Selbstkontrolle – ausgestattet. Verständlich formulierte Texte und Aufgaben helfen in diesem Band, elementare Kenntnisse im Fach Erdkunde zu vermitteln, festigen und zu kontrollieren. Neben umfassend vorbereiteten praktischen Übungen bietet das Werk ergänzende Tests und Lernzielkontrollen, die auch einen fachfremden Einsatz erleichtern.

Produkt im Shop ansehen



Bildquellen von AdobeStock.com:

© Hanna (Hintergrund), © LDarin (Pfeile), © fotografikateria (roter Pinselstrich), © fendy (Computer-Icon);

S. 1: © Naeblys, © natrot; **S. 5:** © STOCKSTUDIO;

S. 8: © rexandpan

Bildquellen von wikimedia.org:

S. 3+9: © San Jose; **S. 7:** © UserHighpriority



Lernen mit Erfolg

KOHL VERLAG